

Reisgids

RSW 2022



Inleiding

In deze reisgids kunnen jullie lezen naar welke werelddelen jullie allemaal gaan afreizen. Lees alles goed door. Je moet natuurlijk wel goed voorbereid op reis gaan!

Veiligheid

- Veiligheid voor je patrouille: Let op het verkeer, je ploeggenoten en de omgeving. Houd de ploeg bij elkaar en blijf op een veilige plek staan terwijl je de routes oplost.
- Loop op de stoep en fiets op het fietspad. Is er aan beide kanten geen stoep, dan loop je aan de linkerkant van de weg. Tenzij er wel een fietspad is, dan loop je daar.
- Let vooral goed op bij het oversteken van drukke wegen. Wacht tot de hele ploeg klaar is en steek zodra het veilig is met de gehele ploeg tegelijk over.
- Maak tijdens de tocht een groepsfoto met iets wat met cultuur te maken heeft. Laat deze foto zien wanneer jullie het tochtboekje inleveren. Hier krijgen jullie bonuspunten voor!
- Gebruik de zebrapaden, oversteekplaatsen en stoplichten als die in de buurt zijn. De route is via deze oversteekplaatsen gemaakt.

Regels en route

- Met een kruising wordt elke kruising, splitsing of afslag bedoeld.
- Routeaanwijzingen gelden voor wegen, (onverharde) voetpaden, fietspaden en steegjes.
- In- en uitritten tellen niet als kruispunt!
- Als je een fietsroute doet, gelden steegjes en voetpaden niet als kruispunten.
- Fietspaden langs een rijbaan tellen niet apart mee.

Handige tips!

- Vergeet de vragen niet! Je krijgt hier punten voor. Tevens zijn de vragen in de tocht bedoeld zodat je kan controleren of je goed loopt.
- De ploeg die de vragen het beste oplost krijgt de meeste punten, en niet de ploeg die het snelste loopt.
- Als je de weg kwijt bent, ga dan terug naar een punt waar je nog zeker wist dat je goed zat. Bijvoorbeeld bij een vraag die je zeker weet.
- Ga terug naar de centraalpost of maak een noodenvelop open als je langer dan 10 minuten aan het zoeken bent waar je heen moet.
- Je krijgt per route een noodenvelop mee. Alle noodenvolpen lever je pas in op het Naaldenveld.
- Bewaar de enveloppen goed. Een verloren noodenvelop geldt voor de organisatie als een opengemaakte envelop.
- Om 16:30 eindigt de tocht en worden de posten opgeheven. Iedereen gaat dan eerst terug naar de centraalpost. Daar word je afgemeld, hierna fietsen jullie terug naar het Naaldenveld. Op het Naaldenveld lever je je mapje met antwoorden en de noodenvolpen in. Het mapje krijgen jullie op zondag terug.

Centraalpost, CP

De hike van de RSW bestaat uit 6 routes met verschillende routetechnieken. Deze routes vertrekken vanaf 1 punt, de centraalpost. Elk van de routes gaat naar een post, en vervolgens weer terug naar de centraalpost. De routebeschrijving naar de centraalpost vind je op de volgende bladzijde.

In principe mogen jullie zelf bepalen welke route jullie gaan doen, ook de volgorde mag je zelf bepalen. Het kan echter zijn dat een route al vol zit. Daarom is het handig als je ook alvast een andere route als tweede voorkeur bedenkt. De postbemanning op de centraalpost heeft hierin altijd het laatste woord.

Je routebladen, met onder andere de antwoorden op de vragen, doe je allemaal in dit mapje. Het mapje lever je na afloop van de tocht in op het Naaldenveld.

Nr.	Route	Techniek	Vervoer	Niveau
1	Blinde vlek	Oleaat	Fiets	Gemiddeld
2	Reisverhaal	Coördinaten	Lopend	Moeilijk
3	Aziatisch eten	Vectorroute	Fiets	Gemiddeld
4	Land-& rivierkaart	Stripkaart	Lopend	Gemiddeld
5	Celebs	Bolletje pijltje	Lopend	Makkelijk
6	Vlogroute	Foto-/ filmroute	Lopend	Makkelijk

Routebeschrijving Centraalpost

Fiets naar het zuidoosten op de Zwaluwenweg. 76 m

Sla linksaf om op de Zwaluwenweg te blijven. 700 m

Sla rechtsaf naar de Nachtegalenlaan. 400 m

Sla linksaf naar de Boekenroodeweg/de N206. 1,1 km

Neem op de rotonde de 3e afslag naar de Oosterduinweg. 270 m

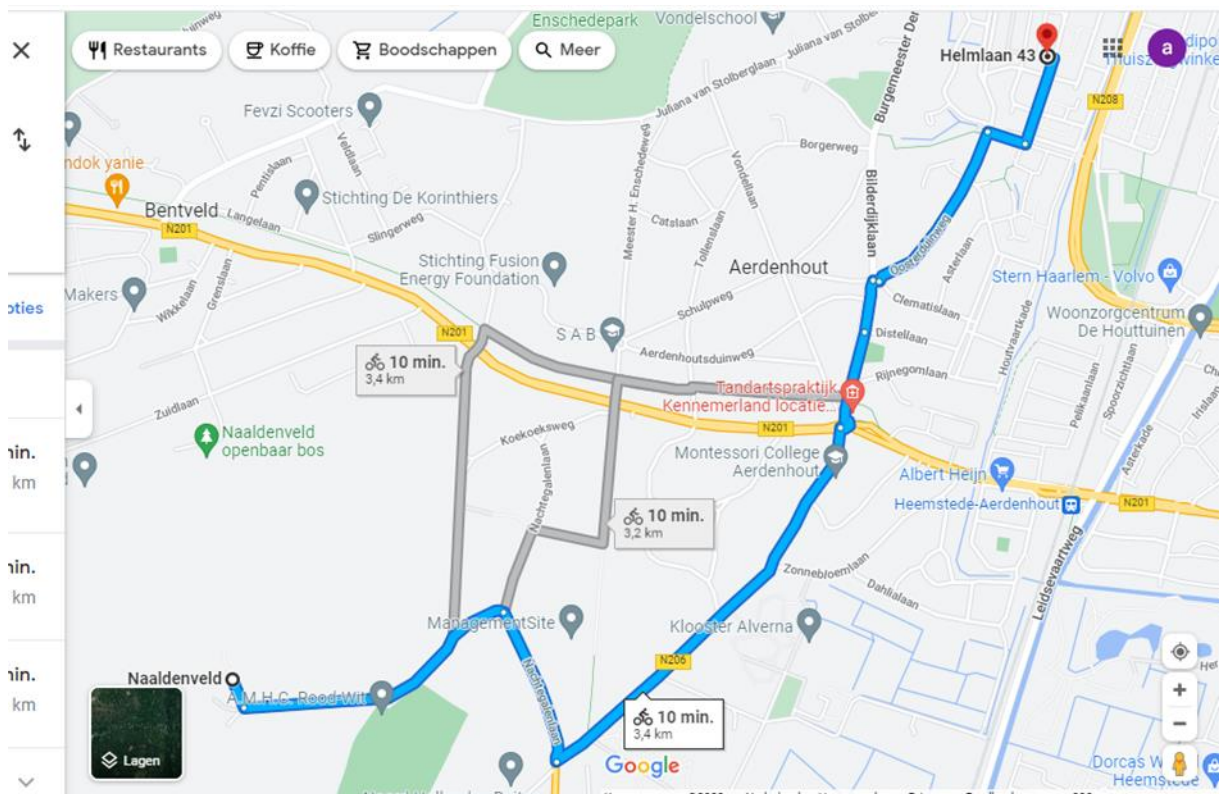
Weg vervolgen naar de Bilderdijkstraan. 130 m

Sla rechtsaf naar de Oosterduinweg. 15 m

Sla linksaf om op de Oosterduinweg te blijven. 450 m

Sla rechtsaf naar het Munterslaantje. 96 m

Sla linksaf naar de Helmlaan.



Route 1. Blinde vlek

In Europa staan verschillende bezienswaardigheden. Jullie krijgen van ons een kaart met deze bezienswaardigheden erop. Vervolgens aan jullie de taak of te ontrafelen naar welke punten je moet fietsen. Hieronder staan de vragen.

- A. Welk nummer moet je bellen voor kantoorruimte?
- B. Hoeveel zwarte strepen staan er op de paal naast het fietspad?
- C. Waar kun je de koopavonden bekijken?

Terugroute 1. Blinde vlek



D. Waar komt hier de bijnaam vandaan?

E. Wie heeft hier stijl?

Route 2. Reisverhaal

Australië (Engels: Australia), officieel het **Gemenebest van Australië** (Engels: *Commonwealth of Australia*) is een land op het zuidelijk halfrond bestaande uit het Australische vasteland en een groot aantal eilanden in de Indische en Grote Oceaan, waarvan Tasmanië het grootste is. Australië ligt ten noordwesten van Nieuw-Zeeland en ten zuiden van Indonesië, Oost-Timor en Papoea-Nieuw-Guinea. Het land heeft een oppervlakte van 7.692.000 km² en is daarmee het op acht na grootste land ter wereld naar oppervlakte. Van de circa 25 miljoen inwoners woont het grootste deel in en nabij de grote steden, zoals Sydney, Melbourne, Brisbane, Perth en Adelaide. De hoofdstad is Canberra.



Australië, dat zijn naam dankt aan het vermeende continent *terra australis incognita* ("Onbekend Zuidelijk land"), werd al enkele tienduizenden jaren bewoond voor het door Europeanen zou worden ingenomen. Naat Willem Jansz Australië in 1606 opmerkte, duurde het nog tot 1770 voor de oostkust in bezit werd genomen door de Britten, die het eiland in eerste instantie als strafkolonie gebruikten. Van 1650 tot 1817 heette het hele continent Nieuw Holland, alleen de namen Arnhemland, Nieuw-Zeeland en Tasmanië herinneren nu nog aan de Nederlandse ontdekkingsreizen in dit gebied. New South Wales was in 1788 de eerste kolonie en in de 19e eeuw volgden nog vijf andere koloniën, de voorlopers van de huidige Australische staten. Op 1 januari 1901 voegden de zes koloniën zich samen tot één federatie en werd het - hoewel nog niet volledig - onafhankelijk van het Verenigd Koninkrijk. Australië ontleent zijn soevereiniteit aan het zogenoemde settled colony principle dat bepaalt dat het land vreedzaam werd gekoloniseerd.



Het tegenwoordige Australië is een federale parlementaire democratie en een constitutionele monarchie met als staatshoofd koningin Elizabeth II (een Commonwealth realm), vertegenwoordigd in Australië door de Gouverneur-Generaal. Internationaal is Australië lid van de Verenigde Naties, de G20, het Gemenebest van Naties, de OESO en de WTO.

De Nederlandse ontdekkingsreiziger Willem Jansz zag met zijn *Duyfken* Australië als eerste Europeaan in 1606, toen hij langs het Kaap York-schiereiland in het noorden van Australië voer. De westkant van Australië werd later ook verschillende malen door Nederlanders en andere Europeanen bezocht, maar dit Nieuw-Holland groeide niet uit tot een kolonie. In 1770 ging de Engelse ontdekkingsreiziger James Cook bij de oostkust van Australië aan land. De coördinaten zitten in de woorden verstoppt.

Het gebied werd Nieuw-Zuid-Wales genoemd en later gebruikt als strafkolonie voor Engelse gevangenen. Daarna werd het land ook populair onder vrije burgers. In 1849 werd er voor het eerst goud gevonden in Australië en daarna nam de bevolking snel toe.

In 1901 keurde Australië een federale grondwet goed en werd een zelfregerend deel (dominion) van het Britse Rijk. Australische troepen namen aan beide wereldoorlogen deel. In de Tweede Wereldoorlog vochten Australische eenheden onder meer op Ambon, in Egypte, op Kreta en in de Pacific.

Melbourne werd de eerste hoofdstad, maar in 1911 schreef de regering een prijsvraag uit voor het ontwerp van een nieuwe hoofdstad. Het winnende ontwerp van de Amerikaanse architect Walter Burley Griffin werd uitgevoerd vanaf 1913 en in 1927 werd het aldus ontstane Canberra de nieuwe hoofdstad.

--	--

- A. Waar is deze bak voor?
- B. Wat kun je hier leren?
- C. Wat zit er in de bus en hoeveel?

Terugroute 2. Reisverhaal



D. Wat is het 6e plusje?

E. Wie woont op nummer 10?

Route 3. Aziatisch eten


1	<u>一</u> <u>二</u> <u>零</u>
2	<u>一</u> <u>零</u> <u>零</u>
3	<u>六</u> <u>二</u> <u>零</u>
4	<u>三</u> <u>五</u> <u>零</u>
5	<u>二</u> <u>五</u> <u>零</u>
6	<u>二</u> <u>三</u> <u>零</u>
7	<u>四</u> <u>六</u> <u>零</u>

Een echte vectorroute zoals ze deze in Azië maken. De eetstokjes geven de richting aan. Voor de afstand moet je nog even puzzelen. Gebruik hiervoor de plaatjes hieronder.

0	零
1	一
2	二
3	三
4	四
5	五
6	六
7	七
8	八
9	九
10	十

- A. Wat is dit voor gemaal?
- B. Hoe heet deze tennisbaan?
- C. Hoe heet het huis nummer 10 in deze straat?

Terugroute 3. Aziatisch eten



D. Wat bevindt zich in deze straat op nummer 16?

E. Welk nummer fietsroute bevindt zich in deze straat?


Route 4. Land- & rivierkaart

We hebben een aantal stukken gevonden die een rivier lijken te vormen. Aan jullie de taak om hier weer een kloppend plaatje van te maken. Er is een grote rivier waar de krokodil zijn route over lijkt te gaan naar de vulkanen. De andere kleinere rivieren gaat de krokodil niet in.

Loop in zuidelijke richting vanaf de hoofdpост.

- A. Wat is het telefoonnummer van de eigenaar/bedrijf van dit huisje?
- B. Hoeveel stenen hoog is dit standbeeld?
- C. Hoe moet je hier je auto parkeren?

Terugroute 4. Land- & rivierkaart



D. (Kruispunt 2) Wat is het nummer van deze lichtmast?

E. (Kruispunt 5) Hoe hoog mag je hier maximaal zijn?

Route 5. Celebs

Denk je aan Amerika, dan denk je aan Big Macs, het vrijheidsbeeld en natuurlijk aan Hollywood. Daarom gaan jullie in deze route op celebrity-safari!

Daarom zie je hier wat foto's van bekende personen die allemaal uit de United States komen. Zie je een zanger of artiest, dan ga je rechtsaf. Is de persoon op de foto een acteur of actrice, dan ga je rechtdoor. En linksaf? Je gaat linksaf als je een tekenfilmpersonage ziet.

Vertrek vanaf de centraalpost in WNW richting.



1

3 A: Hoeveel witte vierkanten tel je op dit kruispunt?



2 (boven)



5



6



7 B: Wat voor terrein ligt aan de rechterkant van de weg?
Blijf hier de weg volgen in dezelfde richting

8

9 C: Je loopt langs een vlaggenstok met een opvallende vlag. Teken deze vlag op je antwoordformulier

10 (onder)




Terugroute 5. Celebs

Vertrek vanaf de post richting 110 graden.

Bij nummer 1 loop je een klein parkje in.

Vraag D: Hoeveel bankjes loop je in totaal langs? Alleen waar je direct langsloopt, tel niet de bankjes die je ziet.



Vraag E: Tussen nummer 7 en 8 kan je een sticker vinden zoals op de foto hiernaast. Wat is de volledige tekst van deze sticker?

Route 6. Vlogroute

Ook het tocht team gaat met de tijd mee en kan natuurlijk niet achterblijven in het maken van vlogs.

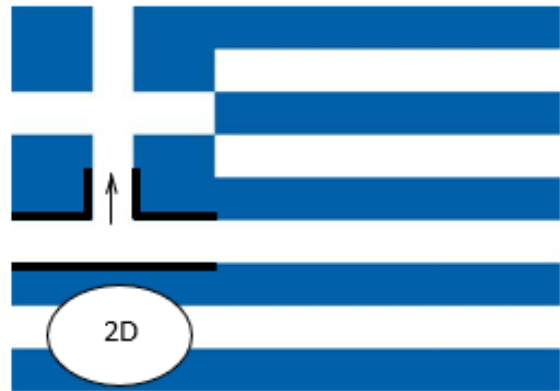

Ga naar het youtube-kanaal “RSW vliegen” en gebruik de filmpjes om je weg te vinden en de vragen te beantwoorden.

De laatste vraag zit niet in één van de filmpjes:

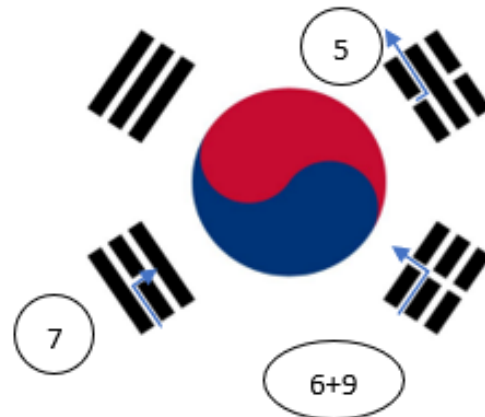
Vraag C: hoeveel **verschillende** diersoorten is onze verslaggever tegengekomen in Afrika?

Terugroute 6. Vlogroute

Vertrek vanaf de post in ZW-richting en loop door tot het pad met de houten paaltjes.



Vraag D: Door welke schimmel bleken de bomen flink te zijn aangetast volgens het blauwe bordje?



Vraag E: Wat is het lichtmastnummer van de lantaarnpaal op dit kruispunt?
Loop na nummer 9 rechtdoor tot aan de centraalpost.